

## Rood kwik

tekst-  
fragment 1

Er verschenen de afgelopen jaren met enige regelmaat artikelen over 'rood kwik' in de pers, zonder dat bewijzen boven tafel kwamen over het bestaan ervan, of over de vermeende chemische eigenschappen. Rood kwik is een chemische verbinding met de formule  $\text{Hg}_2\text{Sb}_2\text{O}_7$ . Er zou een kleine kernfusiebom mee gemaakt kunnen worden, een soort atoombom in broekzakformaat, luidt een van de claims. Dr. D. IJdo, werkzaam aan de Rijksuniversiteit Leiden, lacht

meewarig om de vermeende eigenschappen. Vanwege de hardnekkige berichtgeving heeft hij het maar eens door een van zijn studenten laten maken. De bereiding is eenvoudig: eerst zuiver kwikoxide ( $\text{HgO}$ ) en antimoonoxide ( $\text{Sb}_2\text{O}_3$ ) in de juiste hoeveelheden mengen; daarna het mengsel verhitten in een atmosfeer met alleen zuurstof en klaar is Kees. Na twee dagen is er zuiver  $\text{Hg}_2\text{Sb}_2\text{O}_7$  gevormd. „We hebben een grammetje gemaakt”, zegt IJdo laconiek.

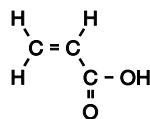
*naar: de Volkskrant*

Rood kwik kan worden opgevat als een zout dat bestaat uit drie ionsoorten:  $\text{O}^{2-}$  ionen,  $\text{Hg}^{2+}$  ionen en antimoonionen.

- 2p 1  Leid uit de formule van rood kwik de lading van deze antimoonionen af.
- Het is echter waarschijnlijker dat rood kwik bestaat uit  $\text{Hg}^{2+}$  ionen en samengestelde ionen met de formule  $\text{Sb}_2\text{O}_7^{4-}$ .
- 2p 2  Hoeveel protonen en hoeveel elektronen bevat een ion  $\text{Sb}_2\text{O}_7^{4-}$ ?  
Noteer je antwoord als volgt:  
aantal protonen: ...  
aantal elektronen: ...
- 3p 3  Geef de reactievergelijking voor de vorming van rood kwik volgens de beschreven bereidingswijze.
- 3p 4  Bereken hoeveel gram kwikoxide minimaal nodig is om 1,0 gram rood kwik op de beschreven wijze te bereiden.

## Wegwerpluiers

Sommige polymeren hebben de eigenschap dat ze water absorberen. Een polymeer met deze eigenschap kan gevormd worden uit het monomeer met de volgende structuurformule:



- 3p 5  Geef de systematische naam van dit monomeer.
- 3p 6  Teken een stukje uit het midden van de structuurformule van het polymeer dat uit dit monomeer gevormd wordt. In het getekende stukje moeten drie monomeer-eenheden zijn verwerkt.

# Eindexamen scheikunde havo 2002-I

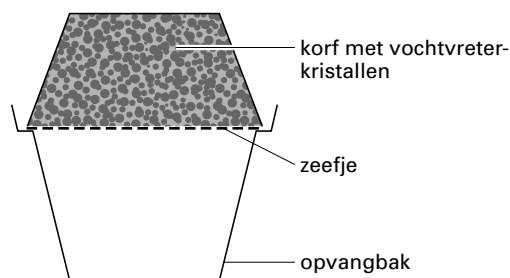
havovwo.nl

Het vochtabsorberende vermogen wordt sterk vergroot als men dit polymeer laat reageren met natronloog. Het ontstane polymeer, dat kan worden weergegeven met de formule  $(-C_2H_3COONa-)_n$ , kan per monomeer-eenheid 300 watermoleculen opnemen! Dit polymeer wordt gebruikt als vochtabsorberend materiaal in wegwerpluiers.

- 3p 7  Bereken hoeveel gram van dit polymeer nodig is om  $1,0 \cdot 10^3$  gram water op te nemen.

## Vochtvreter

Om de lucht in vochtige ruimten zoals kelders en meterkasten te drogen, kan men gebruik maken van een zogenoemde vochtvreter. Deze bestaat uit een hoeveelheid (450 gram) calciumchloride dat op een soort zeefje boven een opvangbakje wordt geplaatst. Het calciumchloride neemt het water op, waarbij het hydraat  $CaCl_2 \cdot 2H_2O$  ontstaat.



- 3p 8  Bereken hoeveel gram water 450 gram calciumchloride op deze wijze kan opnemen.

In de gebruiksaanwijzing van de vochtvreter staat onder andere het volgende:

tekst-  
fragment 2

„Zodra de kristallen met vocht zijn verzadigd, lossen deze in het aangetrokken water op dat in de bak zal druppelen. Afhankelijk van de luchtvochtigheid zal dit na een dag tot enkele weken gebeuren. Voor een optimale werking de bak regelmatig legen. Vlekken veroorzaakt door vochtvreterkristallen of vloeistof uit de opvangbak kunt u verwijderen met natriumsulfaat. Maak een 5% oplossing in water en sprenkel deze over de vlek. Ongeveer 30 minuten laten inwerken. Hierna het water laten verdampen met behulp van een föhn of een straalkachel. Het achterblijvende poeder kunt u met een stofzuiger weghalen.”

Jochem wil onderzoeken wat bedoeld wordt met 'optimale werking'. Hij heeft daar de volgende hypothesen over:

- I Wanneer de bak regelmatig geleegd wordt, is de maximale hoeveelheid water die gebonden wordt, groter dan wanneer de bak niet regelmatig geleegd wordt.
- II Wanneer de bak regelmatig geleegd wordt, wordt het water sneller gebonden dan wanneer de bak niet regelmatig geleegd wordt.

Om te onderzoeken of de hypothesen juist zijn, wil Jochem één of meer experimenten uitvoeren. Daarvoor moet eerst een werkplan worden gemaakt.

- 4p 9  Geef een werkplan voor één of meer experimenten waarmee Jochem voor beide hypothesen kan onderzoeken of de hypothesen juist zijn.

Wanneer bij het verwijderen van een vlek, veroorzaakt door vloeistof uit de opvangbak, overmaat natriumsulfaatoplossing wordt gebruikt, kan na het drogen een poeder worden opgezogen. Dit poeder bestaat uit een aantal vaste zouten.

- 3p 10  Geef de formules van alle zouten in het poeder.

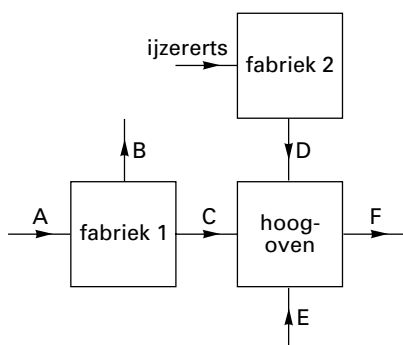
## Cycloon

Lees het eerste deel van het artikel „Wervelwind houdt hoogovens schoon” op het informatieblad. Dit eerste deel heeft de aanduiding: tekstfragment 3.

Tekstfragment 3 handelt over de productie van ruwijzer met behulp van het huidige hoogovenproces.

In onderstaand blokschema is dit productieproces weergegeven. In het schema zijn de namen van een deel van de stoffen weergegeven met de letters A, B, C, D, E en F.

blok-  
schema 1



3p **11**  Welke stoffen worden aangeduid met de letters A, B, C, D, E en F?

Noteer je antwoord als volgt:

A: ...

B: ...

C: ...

D: ...

E: ...

F: ...

In de regels 2 en 3 van tekstfragment 3 staat op welke wijze cokes uit steenkool wordt gemaakt. Bij dit proces mag geen lucht aanwezig zijn.

2p **12**  Leg uit waarom bij de productie van cokes geen lucht aanwezig mag zijn.

In de regels 6, 7 en 8 van tekstfragment 3 staat dat koolstofmono-oxide het ijzererts ( $\text{Fe}_2\text{O}_3$ ) reduceert tot ruwijzer (Fe).

2p **13**  Leg uit aan de hand van de gegeven formules of bij de omzetting van ijzererts in ruwijzer een redoxreactie optreedt.

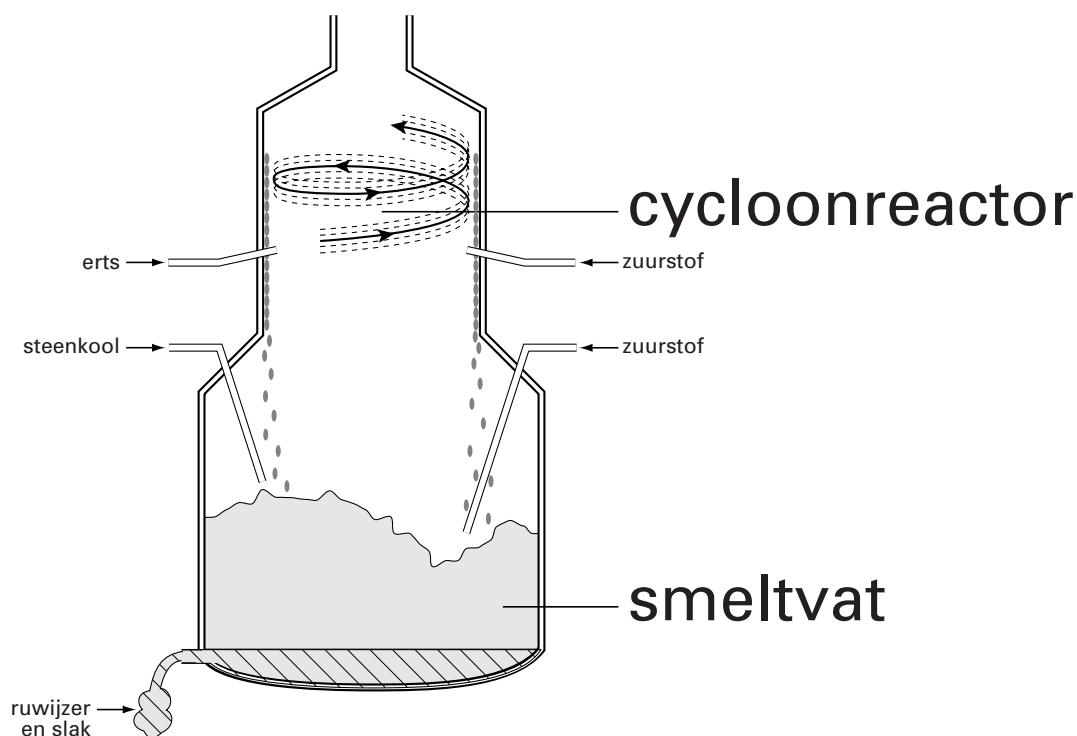
# Eindexamen scheikunde havo 2002-I

havovwo.nl

Lees het tweede deel van het artikel „Wervelwind houdt hoogovens schoon” op het informatieblad. Dit tweede deel heeft de aanduiding: tekstfragment 4.

Tekstfragment 4 gaat over een nieuw ijzerproductieproces. Bij dit nieuwe productieproces wordt gebruikgemaakt van een smeltvat met daarboven een zogenoemde cycloonreactor. In het Engels wordt deze installatie Cyclone Converter Furnace (CCF) genoemd. Het proces wordt CCF-proces genoemd. In figuur 1 staat een schematische tekening van een CCF.

figuur 1



In de regels 12 en 13 van tekstfragment 4 staat dat door de extreem hoge temperatuur de chemische reacties in de cycloon supersnel verlopen. Uit tekstfragment 4 blijkt dat, behalve de hoge temperatuur, er nog andere factoren zijn waardoor de omzetting van het ijzererts in de cycloonreactor supersnel verloopt.

2p **14**  Noem twee van deze factoren.

Om de zeer hoge temperatuur te bereiken wordt, naast fijn ijzererts, ook zuurstof in de cycloonreactor geblazen. Daardoor vindt in de cycloonreactor een verbranding plaats. Van één van de aanwezige stoffen wordt een gedeelte verbrand.

1p **15**  Geef de naam van de stof die in de cycloonreactor wordt verbrand.

In de tekstfragmenten is sprake van twee soorten ijzeroxiden, door de schrijver ijzeroxide (tekstfragment 3, regel 8) en ijzermono-oxide (tekstfragment 4, regel 15) genoemd. De formules van deze oxiden zijn respectievelijk  $\text{Fe}_2\text{O}_3$  en  $\text{FeO}$ . In de scheikunde gebruikt men Romeinse cijfers in de naam om onderscheid te maken tussen beide oxiden.

1p **16**  Geef de naam van  $\text{FeO}$ , waarbij je gebruik maakt van een Romeins cijfer.

In het CCF-proces vindt de vorming van ijzer uit ijzererts in twee opeenvolgende reacties plaats. De schrijver van het artikel legt in tekstfragment 4, de regels 13 tot en met 16, uit wat er bij de eerste reactie gebeurt. Je zou hieruit kunnen opmaken dat ijzeroxide bestaat uit ijzeratomen en zuurstofatomen. Dit is niet juist.

1p **17**  Geef de naam van het soort deeltjes waaruit ijzeroxide bestaat.

# Eindexamen scheikunde havo 2002-I

havovwo.nl

In het smeltvat van de CCF vindt de reactie plaats, waarbij ijzer wordt gevormd.

2p **18**  Geef de vergelijking van deze reactie.

Uit de tekstfragmenten 3 en 4 blijkt dat het CCF-proces een schoner productieproces is dan het huidige hoogovenproces, omdat de productie van cokes overbodig is. Vanuit milieu-oogpunt is dit een argument om het huidige hoogovenproces door het CCF-proces te vervangen.

2p **19**  Noem nog twee argumenten waarom het voor het milieu wenselijk is dat het huidige hoogovenproces wordt vervangen door het CCF-proces. Maak hierbij gebruik van gegevens uit de tekstfragmenten 3 en 4.

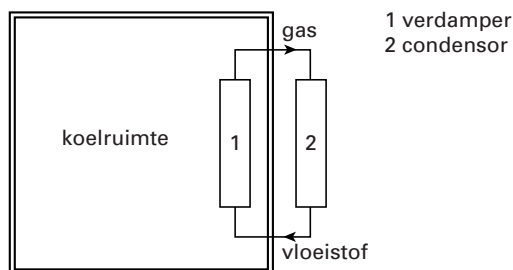
De productie van ruwijzer volgens het CCF-proces biedt vele voordelen. Toch kan het huidige hoogovenproces nog niet direct vervangen worden door het CCF-proces. Eerst moet de capaciteit zover worden opgevoerd dat de installatie tenminste  $2,0 \cdot 10^6$  ton  $\text{Fe}_2\text{O}_3$  per jaar kan omzetten in ruwijzer.

3p **20**  Bereken het aantal ton Fe dat maximaal kan worden gemaakt uit  $2,0 \cdot 10^6$  ton  $\text{Fe}_2\text{O}_3$  ( $1,0 \text{ ton} = 1,0 \cdot 10^3 \text{ kg}$ ).

## Koelmiddel

In een koelinstallatie circuleert een koelmiddel in een gesloten kringloop zoals schematisch is weergegeven in figuur 2.

figuur 2



In de verdamper verdampt het koelmiddel. Hierdoor daalt de temperatuur in de koelruimte.

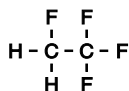
2p **21**  Leg uit dat door het verdampen van het koelmiddel de temperatuur in de koelruimte daalt.

Als koelmiddel werden in het verleden CFK's gebruikt. CFK's zijn verbindingen van chloor, fluor en koolstof. Tegenwoordig mogen CFK's niet meer worden gebruikt, omdat ze de ozonlaag aantasten. Ozon wordt daarbij omgezet in zuurstof.

2p **22**  Geef de reactievergelijking van de omzetting van ozon in zuurstof.

Tegenwoordig wordt in koelinstallaties vaak gebruik gemaakt van HFK's, die de ozonlaag niet aantasten. Dit zijn verbindingen van waterstof, fluor en koolstof. Een veel gebruikt koelmiddel is HFK-134a.

HFK-134a ( $\text{CH}_2\text{F}-\text{CF}_3$ ) is een verbinding met de volgende structuurformule:



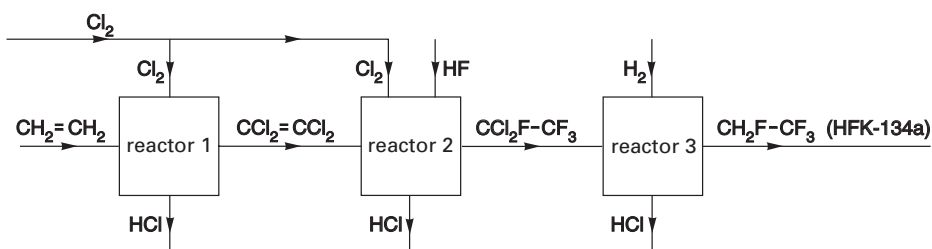
3p **23**  Geef de systematische naam van HFK-134a.

# Eindexamen scheikunde havo 2002-I

havovwo.nl

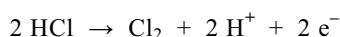
Bij de productie van HFK-134a is etheen een beginstof. De productie gebeurt in drie stappen die hieronder in een blokschema zijn weergegeven.

blok-  
schema 2



- 2p **24**  Is de reactie die plaatsvindt in reactor 1 een additiereactie? Geef een verklaring voor je antwoord.
- 2p **25**  Geef de vergelijking van de reactie die plaatsvindt in reactor 2. Gebruik hierbij de formules zoals ze in blokschema 2 zijn weergegeven.
- 2p **26**  Beredeneer aan de hand van blokschema 2 hoeveel mol HCl er in totaal ontstaat bij de productie van 1,0 mol HFK-134a uit etheen.

Er is een methode ontwikkeld voor de recycling van de grote hoeveelheid HCl die bij de productie van HFK-134a ontstaat. Bij deze methode wordt door middel van elektrolyse het gas HCl omgezet in H<sub>2</sub> en Cl<sub>2</sub>. Bij de elektrolyse wordt aan de ene elektrode het gas HCl omgezet in Cl<sub>2</sub> en H<sup>+</sup>. De vergelijking van deze halfreactie is:



Het H<sup>+</sup> dat ontstaat, gaat naar de andere elektrode en wordt omgezet in H<sub>2</sub>.

- 2p **27**  Vindt de omzetting van HCl in Cl<sub>2</sub> en H<sup>+</sup> plaats aan de positieve of aan de negatieve elektrode? Geef een verklaring voor je antwoord.

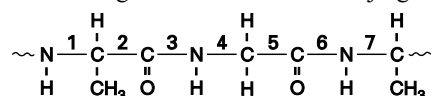
Bij de elektrolyse van HCl gas ontstaan dus Cl<sub>2</sub> gas en H<sub>2</sub> gas. Al het Cl<sub>2</sub> gas en een deel van het H<sub>2</sub> gas worden opnieuw gebruikt voor de productie van HFK-134a, de rest van het H<sub>2</sub> gas wordt afgevoerd.

Het blokschema van de productie van HFK-134a kan worden uitgebreid met de stofstromen die ontstaan doordat het proces wordt uitgebreid met de elektrolyse van het geproduceerde HCl gas. Op de bijlage is het uitgebreide blokschema getekend.

- 4p **28**  Geef in het blokschema op de bijlage de ontbrekende stofstromen op de juiste wijze weer.

## Eiwit

Hieronder is een stukje van de structuurformule van een eiwitmolecuul weergegeven. De bindingen in de hoofdketen zijn genummerd.



Bij volledige hydrolyse worden alle peptidebindingen in het eiwitmolecuul verbroken.

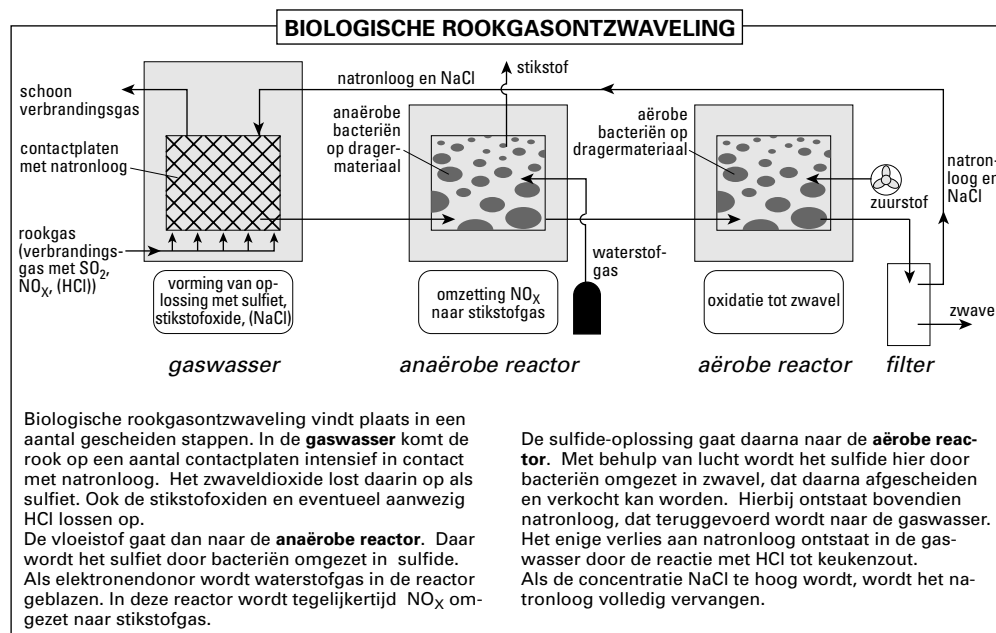
- 2p **29**  Geef de nummers van de bindingen in de bovenstaande structuurformule die peptidebindingen zijn.
- 1p **30**  Geef de naam van het soort stoffen dat ontstaat bij de volledige hydrolyse van eiwitten.

Let op: de laatste vragen van dit examen staan op de volgende pagina.

## Rookgasreiniging

Bij industriële processen kunnen gasvormige verbrandingsproducten ontstaan die belastend zijn voor het milieu. Deze verbrandingsproducten, meestal rookgassen genoemd, moeten worden behandeld alvorens ze de schoorsteen uit mogen. Hieronder is een deel van een artikel weergegeven waarin een mogelijke methode is beschreven.

artikel 1



naar: *Chemisch Weekblad*

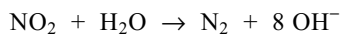
In de gaswässer wordt sulfiet gevormd door een reactie van een stof uit het rookgas met  $\text{OH}^-$  van het natronloog. Bij deze reactie ontstaat ook water.

- 3p **31**  Geef de vorming van sulfiet in de gaswässer in een reactievergelijking weer.

Bij de beschrijving van het proces in de gaswässer staat: „Ook de stikstofoxiden en eventueel aanwezig HCl lossen op.” Het is niet juist dat HCl oplost.

- 2p **32**  Geef een zin uit artikel 1 waaruit blijkt dat het niet juist is dat HCl oplost.

Een proces dat plaatsvindt in de anaërobie reactor is de omzetting van  $\text{NO}_2$  tot  $\text{N}_2$ . Dit is een redoxreactie. De vergelijking van de halfreactie van de oxidator is hieronder gedeeltelijk weergegeven. Enige coëfficiënten en  $e^-$  zijn weggelaten.



- 3p **33**  Neem deze vergelijking over, voeg aan de juiste kant van de pijl  $e^-$  toe en maak de vergelijking kloppend door de juiste coëfficiënten in te vullen.

In de aërobie reactor treedt ook een redoxreactie op. Daarbij is het sulfide de reductor.

- 2p **34**  Geef de formule van de stof die in de aërobie reactor als oxidator optreedt.

Uit de tekst en de bijbehorende tekening in artikel 1 kun je opmaken dat keukenzout niet op dezelfde manier van het natronloog kan worden afgescheiden als zwavel. Dit wordt veroorzaakt doordat keukenzout en zwavel verschillen in eigenschappen.

- 1p **35**  Geef aan hoe het komt dat keukenzout niet door filtratie van het natronloog gescheiden kan worden.

# Eindexamen scheikunde havo 2002-I

havovwo.nl

## Bijlage bij vraag 28

Scheikunde (nieuwe stijl)

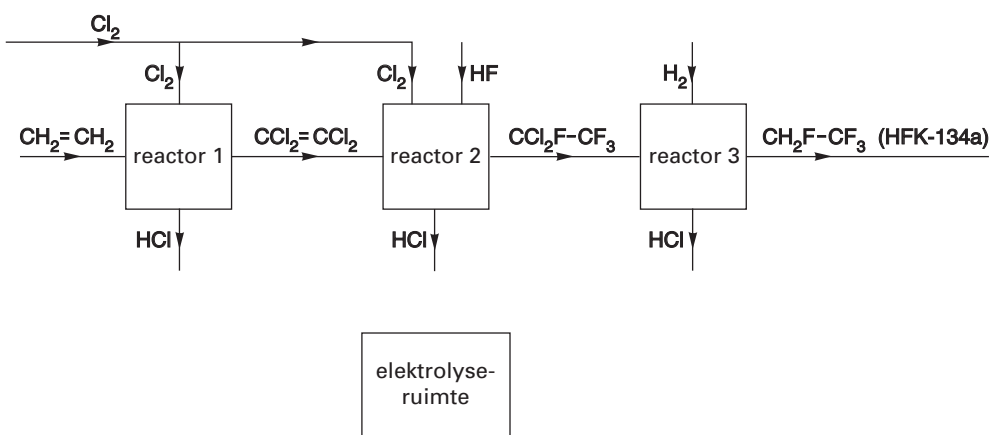
Examen HAVO 2002

Tijdvak 1  
Vrijdag 24 mei  
13.30 – 16.30 uur

Examennummer

Naam

### Vraag 28





## Informatieblad

De informatie op dit informatieblad behoort bij de vragen 11 tot en met 20.  
Hieronder staan twee tekstfragmenten uit een artikel met de titel:

### WERVELWIND HOUDT HOOGOSENS SCHOON

tekstfrag- 1 Het huidige hoogovenproces voor de productie van ruwijzer is vies en omslachtig. Er komt  
ment 3 2 cokes aan te pas. Die wordt gemaakt door steenkool te verhitten, waarbij vluchtige  
3 componenten zoals teer en benzeen eruit worden gehaald. Van het ijzererts worden bolletjes  
4 -pellets- gemaakt, die een warmtebehandeling krijgen om ze compacter te maken.  
5 Daarna gaan de cokes en de ijzerertspellets netjes gestapeld de oven in. Onder in de oven  
6 wordt lucht geblazen waarmee de cokes wordt verbrand. Het koolstofmono-oxidegas dat  
7 daarbij wordt gevormd, kan gemakkelijk door het poreuze cokes omhoog en reduceert  
8 daarbij het ijzererts (ijzeroxide) tot ruwijzer. Dit kan in vloeibare vorm beneden worden  
9 afgetapt.  
10 Het huidige hoogovenproces vereist een aantal grote gescheiden fabrieken, onder meer voor  
11 de productie van cokes en de voorbehandeling van ijzererts. Bovendien komen bij de  
12 cokesproductie allerlei vieze stoffen vrij.

tekstfrag- **Hoogovens in IJmuiden werkt aan een methode om ijzer te maken in een hete**  
ment 4 **wervelwind waarin alle benodigde stoffen meedraaien. Het is een schoon**  
**productieproces, dus de minister van milieuzaken is enthousiast. Alleen het geld voor**  
**de verdere ontwikkeling ontbreekt nog.**  
1 Hoogovens werkt al een kleine tien jaar aan een revolutionair productieproces. Op termijn  
2 zal dit het huidige hoogovenproces, dat dateert uit het begin van de negentiende eeuw,  
3 kunnen vervangen. Iedereen is enthousiast omdat de nieuwe methode schoner en goedkoper  
4 is.  
5 Bij het nieuwe proces, dat Hoogovens in IJmuiden heeft ontwikkeld, wordt ijzererts in één  
6 installatie met steenkool gereduceerd tot ruwijzer. Die installatie bestaat uit twee delen.  
7 Bovenin, in de zogeheten cycloonreactor, worden zuurstof en fijngemalen ijzererts naar  
8 binnen geblazen. Onderin de installatie, in het smeltvat, worden steenkoolpoeder en  
9 zuurstof gebracht. Het koolstofmono-oxide gas dat hier ontstaat door verbranding van het  
10 steenkoolpoeder, stijgt op naar de cycloonreactor.  
11 In de cycloonreactor ontstaan wervelingen die resulteren in een intensieve menging van de  
12 stoffen. De temperatuur in de cycloonreactor is tweeduizend graden Celsius waardoor de  
13 chemische reacties supersnel verlopen. In de cycloonreactor wordt ijzererts door  
14 koolstofmono-oxide gas, dat opstijgt uit het smeltvat, ontdaan van één zuurstofatoom.  
15 Daarbij vormt zich vloeibaar ijzermono-oxide, dat langs de wand van de installatie naar  
16 beneden stroomt. De gesmolten massa komt onderin de installatie terecht waar ingebracht  
17 steenkoolpoeder het zuurstof-atoom van het ijzermono-oxide stript. Koolstofmono-oxide gas  
18 dat daarbij gevormd wordt, stijgt naar boven om weer mee te doen aan de chemische  
19 omzettingen in de cycloon.  
20 Met de hete afvalgassen van de installatie kan elektriciteit worden gemaakt. Het nieuwe  
21 proces gaat op die manier tot 20% efficiënter om met energie dan de huidige  
22 productiemethode.  
23 Door het efficiënter gebruik van steenkool is de uitstoot van koolstofdioxide minder.  
24 Bovendien is het nieuwe proces flexibel. De installatie kan snel aan en uit worden gezet. Bij  
25 de huidige hoogoven kan dit niet.

*naar: de Volkskrant*